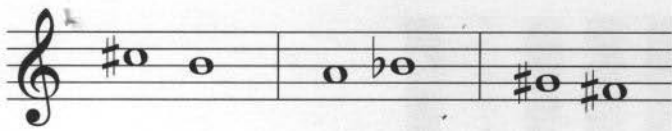

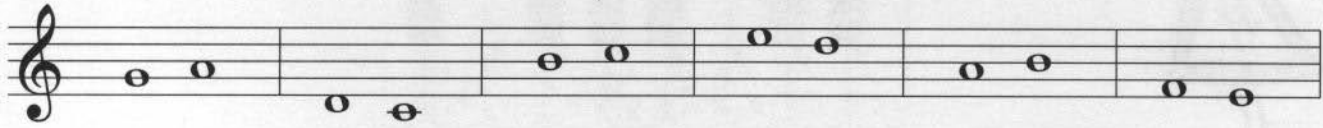


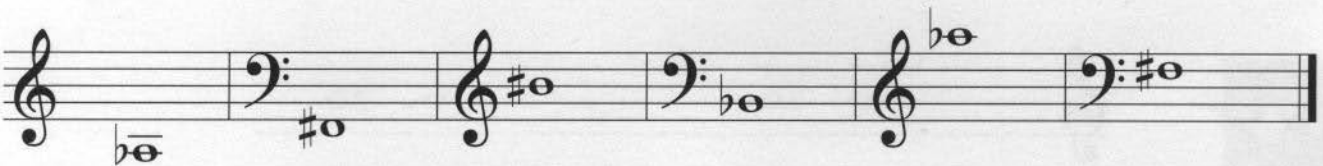


6. Handelt es sich um einen Halbtonschritt (HT) oder Ganztonschritt (GT)?



Probeseite aus
www.dux-verlag.de

7. Wie heißen diese Töne?



8. Wie ist die deutsche Bezeichnung für den international benannten Ton b? _____

9. Schreibe folgende Noten:



ges₁ cis₁ es as₂ Dis b



As fis₃ des₁ eis₂ ais ces₂